

〔No. 11〕 正答 3

条件A～Eより、3人が食べた寿司ネタについて表を作ると、次のようになる。

	I (1つまで)			II (2つ)			III						個数
	トロ	ウニ	ヒラメ	エビ	タイ	マグロ	イカ	タコ	アジ	アナゴ	玉子	きゅうり	
父	○			○	○			○					5つ
長男	×				×	○	○	×				×	
次男	×	×	×	×	○	○	○				○	○	7つ

Iのネタは1つまでなので、父はウニおよびヒラメを食べておらず、IIのネタは3人とも2つ食べているので、父はマグロを食べず、長男はエビを食べたことになる。また、長男がIのネタを食べなかったとすると、長男はIIおよびIIIのネタを合わせて7つ食べたことになるが、長男はタイ、タコ、きゅうりを食べていないので、IIおよびIIIのネタを7つ食べている可能性はない。したがって、長男はIのネタであるウニまたはヒラメのどちらかを食べ、全部で5つのネタを食べたことになる。

	I (1つまで)			II (2つ)			III						個数
	トロ	ウニ	ヒラメ	エビ	タイ	マグロ	イカ	タコ	アジ	アナゴ	玉子	きゅうり	
父	○	×	×	○	○	×		○					5つ
長男	×	どちらか○		○	×	○	○	×				×	5つ
次男	×	×	×	×	○	○	○				○	○	7つ

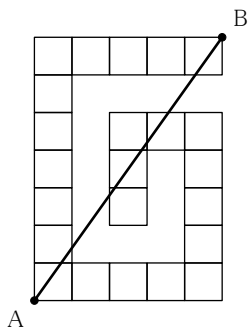
条件Dより、長男と次男が共通して食べたネタはマグロおよびイカの2つであるので、条件Eの「3人全員が共通して食べたネタ」はイカということになり、長男は玉子を食べていないことになる。さらに、長男はアジまたはアナゴのどちらかを食べていることになるが、条件Dより長男が食べたネタは次男が食べていないことになるので、次男はタコを食べていることになる。

	I (1つまで)			II (2つ)			III						個数
	トロ	ウニ	ヒラメ	エビ	タイ	マグロ	イカ	タコ	アジ	アナゴ	玉子	きゅうり	
父	○	×	×	○	○	×	○	○	×	×	×	×	5つ
長男	×	どちらか○		○	×	○	○	×	○/×	×/○	×	×	5つ
次男	×	×	×	×	○	○	○	○	×/○	○/×	○	○	7つ

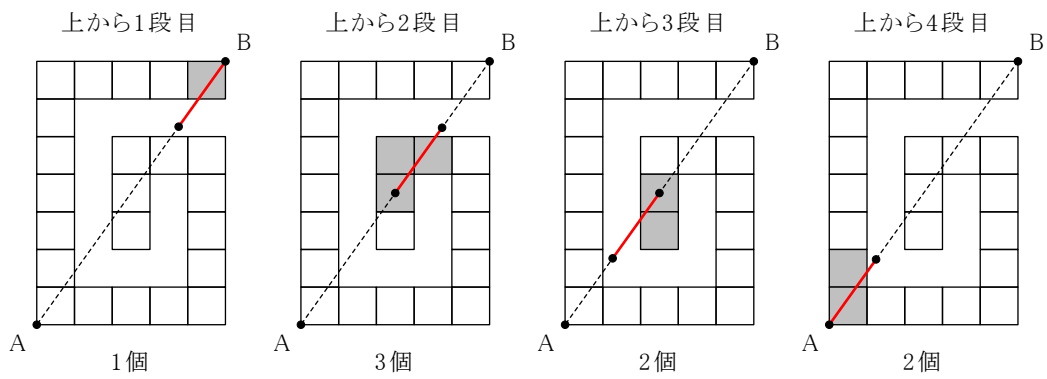
よって、ア～オのうちで確実にいえるのは、イの「乳はアジを食べなかった」、ウの「長男はIのネタを食べた」、エの「次男はタコを食べた」である。

〔No. 12〕 正答 3

図2の立体を真上から見たとき、2点A、Bを結ぶ直線は次の図のようになる。



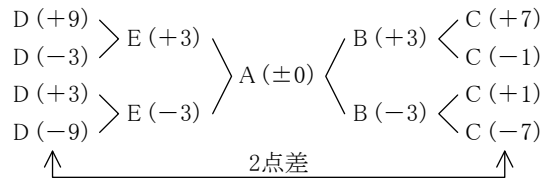
この直線ABが上下方向に4段に等分されることから、各段について直線ABが通過する立方体の数を数えると、次のようになる。



よって、正答は選択肢3の「8個」である。

[No. 13] 正答 1

A を基準(± 0)として、B~E の勝ち点を樹形図で表すと、次のようになる。



C と D の勝ち点差が 2 であることから、A から E の勝ち点は次の 4 通りとなる。

	A	B	C	D	E
①	± 0 (5 位)	+3 (3 位)	+7 (2 位)	+9 (1 位)	+3 (3 位)
②	± 0 (3 位)	+3 (1 位)	-1 (4 位)	-3 (5 位)	+3 (1 位)
③	± 0 (5 位)	-3 (3 位)	+1 (2 位)	+3 (1 位)	-3 (3 位)
④	± 0 (1 位)	-3 (2 位)	-7 (4 位)	-9 (5 位)	-3 (2 位)

これらのうち、首位のチームと 4 位のチームとの勝ち点差がもっとも大きくなるのは、④の A が首位の場合の「7 点」である。

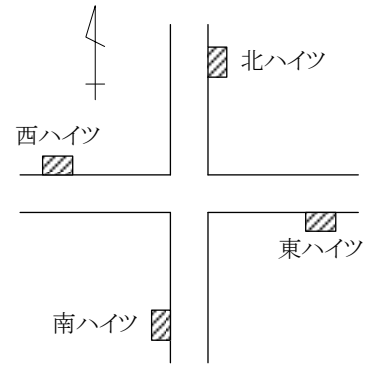
よって、正答は選択肢 1 である。

〔No. 14〕 正答 3

条件ウより、CはDより東に住んでいるので、Cは北ハイツ、東ハイツ、南ハイツのいずれかである。ところが、Cが東ハイツに住んでいるとすると、条件エよりAが南ハイツに住んでいることになり、条件アと矛盾する。したがって、Cは北ハイツまたは南ハイツのいずれかに住んでいることになり、Dが西ハイツに住んでいることになる。

条件イより、Dの家からAの家へは中央交差点を直進するので、Aは東ハイツに住んでいることになり、条件アよりBが南ハイツ、条件エよりCが北ハイツに住んでいることになる。

よって、確実にいえるものは選択肢3の「Aは東ハイツに、Cは北ハイツに住んでいる」である。



[No. 15] 正答 2

A～Dはそれぞれ3種類のスイートを持っており、スイートのパターンはすべて異なっているため、4人はそれぞれ異なる1つのスイートを持っていないことになる。

条件オより、BはS大生ではなく、条件アおよびエよりCとAもS大生ではないので、S大生はDである。したがって、条件オよりBとDはスペードとダイヤのカードを持っていることになる。また、条件アよりCはスペードのカードを持っているので、Aはスペードのカードを持っていないことになる。この時点で、Aが持っているカードはハート、ダイヤ、クラブであるとわかる。さらに、ダイヤを持っているのはA、B、Dの3人となるので、Cが持っているカードはスペード、ハート、クラブの3種類である。

ここまで判明した事実を表にすると、次のようになる。

	P	Q	R	S	スペード	ハート	ダイヤ	クラブ
A				×	×	○	○	○
B				×	○		○	
C				×	○	○	×	○
D	×	×	×	○	○		○	

条件ウより、Q大生はダイヤとクラブのカードの両方を持っていることはないため、AはQ大生ではなく、条件エよりAはP大生でもないため、AはR大生である。また、条件イよりP大生はダイヤとクラブのカードを持っているため、BがP大生となってBが持っているカードはスペード、ダイヤ、クラブの3種類となる。ここから、CはQ大生であり、Dが持っているカードはスペード、ハート、ダイヤの3種類となる。

	P	Q	R	S	スペード	ハート	ダイヤ	クラブ
A	×	×	○	×	×	○	○	○
B	○	×	×	×	○	×	○	○
C	×	○	×	×	○	○	×	○
D	×	×	×	○	○	○	○	×

よって、確実にいえるものは選択肢2の「BはP大生で、スペード、ダイヤ、クラブのカードを持っている」である。

[No. 16] 正答 4

問題の式の形から、「三平方の定理」を利用すればよいと考えられる。

「 $13^2+2^2=173$ 」より、「 $\sqrt{173}$ 」は直角をはさむ2辺の長さが13および2である直角三角形の斜辺の長さであり、「 $6^2+2^2=40$ 」より、「 $\sqrt{40}$ 」は直角をはさむ2辺の長さが6および2である直角三角形の斜辺の長さであることがわかる。さらに、「 $(13+2)^2+(6+2)^2=17^2$ 」より、「17」は直角をはさむ2辺の長さが13+2および6+2である直角三角形の斜辺の長さであることもわかる。

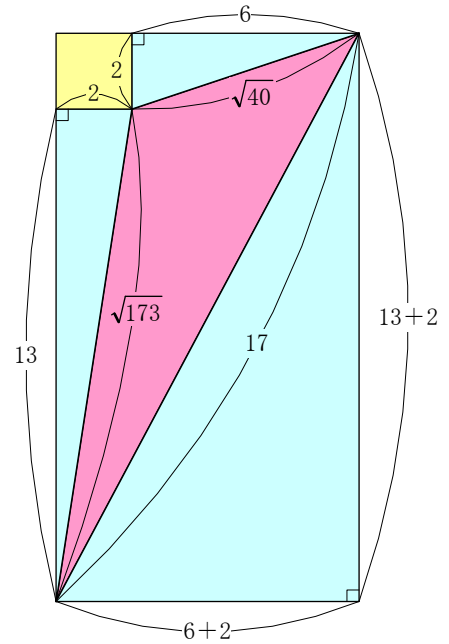
これらのことから、右のような図を描くと、求める三角形の面積は、2辺の長さが15および8である長方形の面積から、3つの直角三角形および1辺の長さが2の正方形の面積を引けばよいことがわかる。

したがって、求める面積は、

$$15 \times 8 - \left(15 \times 8 \times \frac{1}{2} + 13 \times 2 \times \frac{1}{2} + 6 \times 2 \times \frac{1}{2} + 2 \times 2 \right)$$

$$= 120 - (60 + 13 + 6 + 4) = 120 - 83 = 37$$

となる。



[No. 17] 正答 4

問題の正四面体を図示すると、次のようになる。

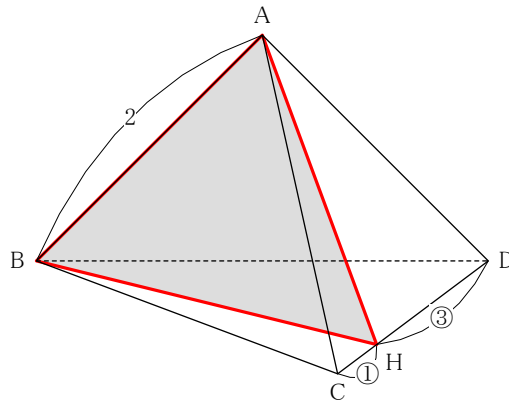


図1のように、正三角形ACDについて、AからCDに下ろした垂線の足をEとすると、EはCDの中点であるので $DE=1$ であり、HはCDを1:3に内分する点であるから $CH=2 \times \frac{1}{1+3} = \frac{1}{2}$ である。したがって、 $HE = \frac{1}{2}$ となるので、 $\triangle AHE$ についての三平方の定理より、 $AH = \frac{\sqrt{13}}{2}$ となる。また、 $\triangle ACH \equiv \triangle BCH$ より $BH = \frac{\sqrt{13}}{2}$ となるので、切断面ABHは、図2のように、 $AH=BH = \frac{\sqrt{13}}{2}$ 、 $AB=2$ の二等辺三角形となる。

図1

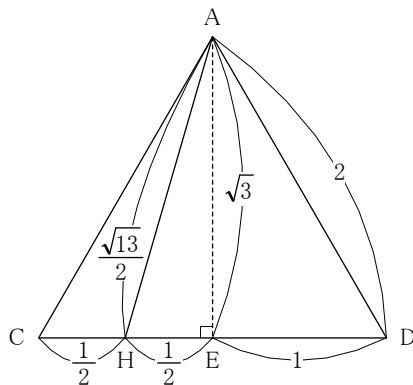


図2

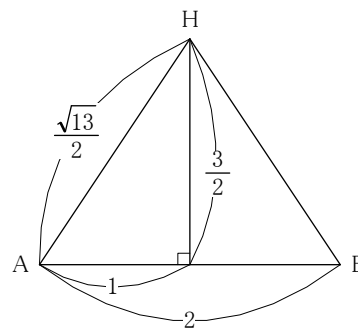
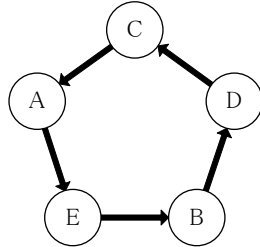
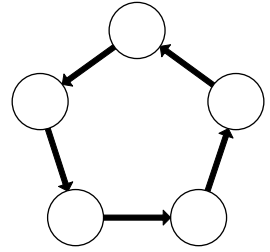


図2より、 $\triangle ABH$ の高さは $\frac{3}{2}$ となるので、その面積は $2 \times \frac{3}{2} \times \frac{1}{2} = \frac{3}{2}$ である

[No. 18] 正答 4

A の発言から、5 人のメールのやり取りのようすは右の図のようになっていると考えられる。

B, D, E の発言から、この 3 人は C からメールを受け取っていないので、C からメールを受け取ったのは A ということになる。このとき、C の発言から、C がメールを受け取った相手は D となり、B の発言から、B がメールを受け取った相手は E となるので、5 人のメールのやり取りのようすは次の図のようになる。



よって、確実にいえるのはイの「C が送った相手は B である」およびエの「C は D から受け取った」となるので、正答は選択肢 4 である。

[No. 19] 正答 2

条件オより、Eは全員と知り合いであるので、条件イよりBはEのみと知り合いということになり、A、C、Dの3人はBと知り合いではないことになる。そうすると、条件エよりDはB以外の3人、すなわちA、C、Eの3人と知り合いということになり、Cが知り合いである2人はDよびEとなる。したがって、AとCは知り合いではないことになる。

	A	B	C	D	E	(人数)
A		×	×	○	○	2人
B	×		×	×	○	1人
C	×	×		○	○	2人
D	○	×	○		○	3人
E	○	○	○	○		4人

条件アより、Aの両隣はいずれもAの知り合いではないので、Aの両隣はBとCである。ところが、両隣とも知り合いでないのはAだけであるから、BはAとEの間、すなわちAの左隣に座っていることになる。よって、Aの右隣に座っているのはCである。

[No. 20] 正答 4

各問題の正答率は、 $\frac{\text{正答者数}}{\text{生徒数}}$ で求めることができる。また、2題合わせた正答率は、問1の正答率と問2の正答率の算術平均を取ることで求められる。

条件アより、2題合わせた正答率は3クラスとも同じであるが、条件エよりAの問1の正答率は他の2クラスよりも高いので、Aの問2の正答率は他の2クラスよりも低いはずである。ところが、条件ウより、AとBの問2の正答者数は同じであるので、AのほうがBよりも正答率が低くなるためには、Aの生徒数がBの生徒数よりも多くなければならない。

また、条件イよりAの問1と問2の正答者数が同じであるので、Aの問1の正答者数とBの問2の正答者数は同じである。一方で、Aの問1と問2の正答率は等しいはずであるから、これを a とすると、Bの問1の正答率は a より低く、Bの問2の正答率は a より高いことになる。したがって、Bの問1の正答率はBの問2の正答率よりも低いことになるので、Bの問1の正答者数はBの問2の正答者数より少なく、同時にAの問1の正答者数よりも少ないことがわかる。

ここで、条件オより、Cの問1の正答者数はAより多いことになるが、条件エよりCの問1の正答率はAよりも低いはずであるので、Cの生徒数はAの生徒数よりも多くなければならない。

よって、生徒数が多い順に「C→A→B」となるので、正答は選択肢4である。

なお、仮にAの生徒数を30人、Aにおける問1および問2の正答率を50%とした場合、たとえば次のような人数であれば、すべての条件を満たしている。

	人数	問1の正答者数	問2の正答者数	合計の正答率
A	30人	15人(正答率50%)	15人(正答率50%)	50%
B	25人	10人(正答率40%)	15人(正答率60%)	50%
C	40人	18人(正答率45%)	22人(正答率55%)	50%

[No. 21] 正答 1

A~Cのそれぞれについて、正誤を検討してみると、次のようになる。

A 4^m の1の位は、 $4^1=4$, $4^2=16$, $4^3=64$, $4^4=256$, …というように、4と6しか現れない。また、 6^n の1の位は、 $6^1=6$, $6^2=36$, $6^3=216$, $6^4=1,296$, …というように、すべて6となっている。したがって、 $4^m 6^n$ の1の位は、 $4 \times 6=24$ の「4」または $6 \times 6=36$ の「6」のいずれかである。よって正しい。

B $3^m 7^n$ の1の位が3となるのは、 $3 \times 7=21$ より、 $3^m 7^n=3^{m+1} \times 7^n=3^n \times 7^n \times 3=21^n \times 3$ となる場合、すなわち $m=n+1$ となる場合である。このとき、 $3^n 7^n$ の1の位は、 $3^n \times 7^{n+1}=3^n \times 7^n \times 7=21^n \times 7$ より、かならず7となる。よって正しい。

C 3^m について、 $m=1$ から順に書き並べてみると、次のようになる。

$$3^1=3, 3^2=9, 3^3=27, 3^4=81, 3^5=243, 3^6=729, 3^7=2,187, 3^8=6,561, \dots$$

したがって、 s を1以上の整数とすると、 $m=4s-3$ のとき 3^m の1の位は3、 $m=4s-2$ のとき 3^m の1の位は9、 $m=4s-1$ のとき 3^m の1の位は7、 $m=4s$ のとき 3^m の1の位は1となっていることがわかる。

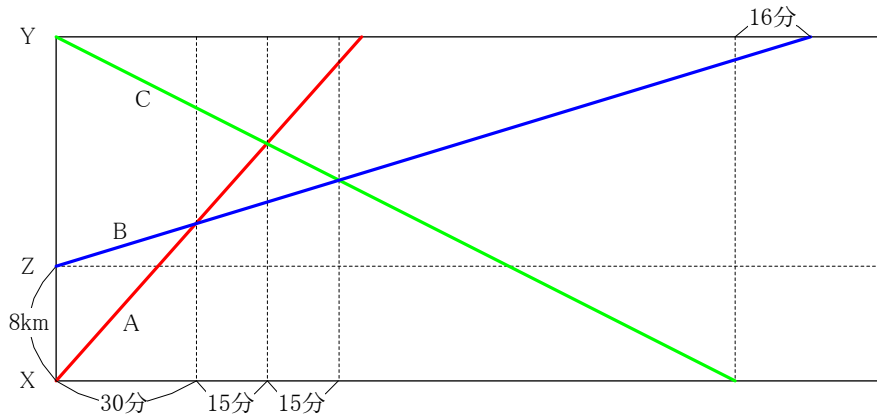
同様に考えると、 8^n の1の位は、 t を1以上の整数として、 $n=4t-3$ のとき 8^n の1の位は8、 $n=4t-2$ のとき 8^n の1の位は4、 $n=4t-1$ のとき 8^n の1の位は2、 $n=4t$ のとき 8^n の1の位は6となっていることがわかる。

ここで、 $m+n=33$ であるとき、 $m=4s-3$ とすれば、 $n=33-m=33-(4s-3)=36-4s=4(9-s)=4t$ と考えることができる。このとき、 $3^m 8^n$ の1の位は、 $3 \times 6=18$ の「8」である。同様に、 $m=4s-2$ のときは $n=33-m=33-(4s-2)=35-4s=4(9-s)-1=4t-1$ となるので $3^m 8^n$ の1の位は $9 \times 2=18$ の「8」となり、 $m=4s-1$ のときは $n=33-m=33-(4s-1)=34-4s=4(9-s)-2=4t-2$ となるので $3^m 8^n$ の1の位は $7 \times 4=28$ の「8」となり、 $m=4s$ のときは $n=33-m=33-4s=4(9-s)-3=4t-3$ となるので $3^m 8^n$ の1の位は $1 \times 8=8$ の「8」となる。よって正しい。

以上より、A~Cはすべて正しいので、正答は選択肢1である。

[No. 22] 正答 4

A～Cの3人の移動のようすをダイヤグラムで表してみると、次のようになる。ただし、Bが出発した地点をZとしている。



Aの速さを a km/時, Bの速さを b km/時, Cの速さを c km/時とすると, Aは30分でBに追いついたので,

$$\frac{1}{2}(a-b)=8 \quad \therefore b=a-16$$

また, AとCは45分後に出会っているので, XY間の距離は $\frac{3}{4}(a+c)$ kmと表すことができる。したがって,

BとCが1時間後に出会っていることから,

$$1 \times (b+c) = \frac{3}{4}(a+c) - 8 \quad \rightarrow \quad 4(a-16+c) = 3(a+c) - 32 \quad \therefore c = 32 - a$$

よって, XY間の距離は,

$$\frac{3}{4}(a+c) = \frac{3}{4}(a+32-a) = \frac{3}{4} \times 32 = 24 \text{ (km)}$$

BとCの到着時刻の差が16分であることから,

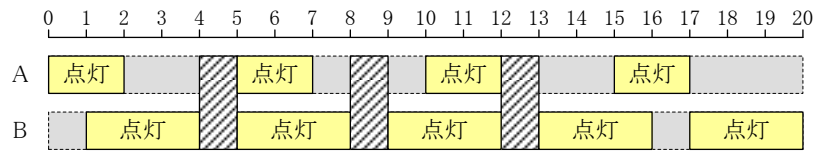
$$\frac{24}{32-a} + \frac{16}{60} = \frac{24-8}{a-16}$$

この方程式を数学的にきちんと解くのは現実的ではないので, a に選択肢の値を順に当てはめてみると, $a=22$ のときに等式が成立することがわかる。

よって, 正答は選択肢4である。

[No. 23] 正答 4

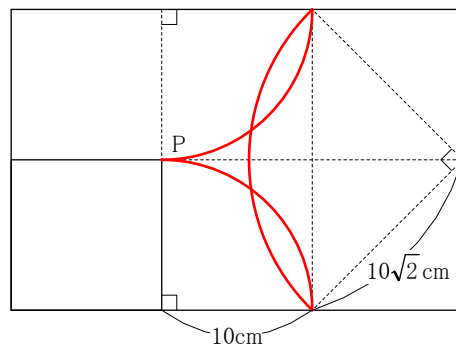
Aは「2分間点灯したのちに3分間消灯」するので5分ごとのパターンであり、Bは「1分間消灯したのちに3分間点灯」するので4分ごとのパターンである。したがって、5と4の最小公倍数である20分ごとに、A、Bがともに消灯している時間が何分あるかを調べればよい。



図で示したように、20分間にA、Bがともに消灯している時間は3分ある(図の斜線部分)。よって、60分間
のうちでA、Bがともに消灯している時間は $3 \times \frac{60}{20} = 9$ (分間)である。

[No. 24] 正答 4

正方形が長方形の内部を滑らずに転がるときの頂点 P の軌跡は、次のようになる。



よって、軌跡の長さは、

$$10 \times 2 \times \pi \times \frac{1}{4} \times 2 + 10\sqrt{2} \times 2 \times \pi \times \frac{1}{4} = (10 + 5\sqrt{2})\pi \text{ (cm)}$$

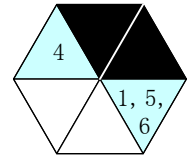
となる。

[No. 25] 正答 4

黒く塗られたマスが図2のようになるためには、最初のサイコロで3以外の目が出る必要がある。そこで、最初のサイコロの目が1, 2, 4, 5, 6であるそれぞれの場合について考えると、次のようになる。

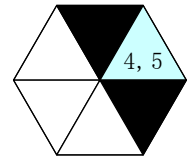
① 最初に1が出た場合

黒く塗られたマスは右の図のようになるので、図2のようになるためには、2回目に1, 4, 5, 6のいずれかの目が出ればよい。このときの確率は $\frac{1}{6} \times \frac{4}{6} = \frac{1}{9}$ である。



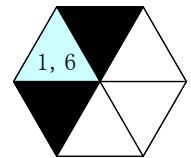
② 最初に2が出た場合

黒く塗られたマスは右の図のようになるので、図2のようになるためには、2回目に4または5のいずれかの目が出ればよい。このときの確率は $\frac{1}{6} \times \frac{2}{6} = \frac{1}{18}$ である。



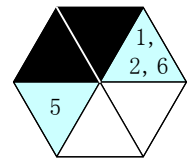
③ 最初に4が出た場合

黒く塗られたマスは右の図のようになるので、図2のようになるためには、2回目に1または6のいずれかの目が出ればよい。このときの確率は $\frac{1}{6} \times \frac{2}{6} = \frac{1}{18}$ である。



④ 最初に5が出た場合

黒く塗られたマスは右の図のようになるので、図2のようになるためには、2回目に1, 2, 5, 6のいずれかの目が出ればよい。このときの確率は $\frac{1}{6} \times \frac{4}{6} = \frac{1}{9}$ である。



⑤ 最初に6が出た場合

黒く塗られたマスは①と同じになるので、このときの確率は $\frac{1}{6} \times \frac{4}{6} = \frac{1}{9}$ である。

よって、求める確率は $\frac{1}{9} + \frac{1}{18} + \frac{1}{18} + \frac{1}{9} + \frac{1}{9} = \frac{4}{9}$ である。

[No. 26] 正答 3

演算が「+」および「×」であった場合には、計算結果がかならず正の整数となるので、計算結果が整数と
ならない場合および負となる確率を求めるには、演算が「-」および「÷」の場合のみを考えればよい。

演算が「-」の場合、演算結果はかならず整数となるが、負となるものが「1-2」, 「1-3」, 「1-4」, 「2-3」,
「2-4」, 「3-4」の6通りある。また、演算が「÷」の場合、演算結果はかならず正となるが、整数とならな
いものが「1÷2」, 「1÷3」, 「1÷4」, 「2÷3」, 「2÷4」, 「3÷2」, 「3÷4」, 「4÷3」の8通りある。また、すべて
の演算の場合の数は $4^3=64$ 通りである。

よって、求める確率は $\frac{6+8}{64} = \frac{7}{32}$ である。

〔No. 27〕 正答 5

A～Cについて検討してみると、次のようになる。

A 平成 22 年度の産婦人科医療費は、(平成 19 年度の産婦人科医療費) $\times (1 - 0.0022) \times (1 - 0.0225) \times (1 + 0.0079) \doteq$ (平成 19 年度の産婦人科医療費) $\times 0.983$ となり、平成 19 年度を下回っている。よって誤りである。

B 全診療科医療費に占める産婦人科医療費の割合は、平成 23 年度が 2.95%、平成 24 年度が 2.97%であり、平成 24 年度は前年の割合を上回っている。よって誤りである。

C 全診療科医療費は、 $\frac{\text{産婦人科医療費}}{\text{全診療科医療費に占める産婦人科医療費の割合}}$ で求めることができる。ここで、平成

23 年度の産婦人科医療費を f とすると、平成 23 年度的全診療科医療費は $\frac{f}{0.0295}$ となり、平成 24 年度的全

診療科医療費は $\frac{1.0103f}{0.0297}$ となる。したがって、平成 23 年度に対する平成 24 年度的全診療科医療費の増加

率は、 $\frac{1.0103f}{0.0297} \div \frac{f}{0.0295} = \frac{1.0103}{0.0297} \times 0.0295 = 1.0103 \times \frac{0.0295}{0.0297} \doteq 1.0035$ よりおよそ 0.35% となり、1% を下

回っている。よって誤りである。

以上より、A～C はすべて誤りであるので、正答は選択肢 5 である。